

令和7年2月1日

令和7年度 入学試験 第1回午前

# 社 会

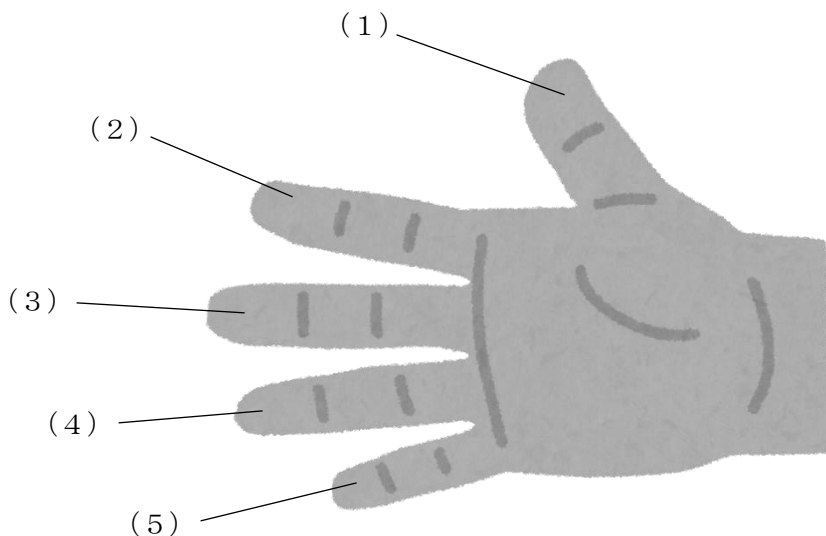
京華女子中学校

※解答用紙は本冊子にはさんでいます。



**【問題は次のページから始まります】**

1 次の文章は指に関して説明したものです。よく読んで、あとの問いに答えなさい。



(1) は親指です。「a) お父さん指」とよばれることもあります。手をにぎったときに、他の指と向かい合うようになるのが特徴です。親指がこのような形に進化したことで、人間は「物をつかむ」「道具をつくる」といった、さまざまなことができるようになりました。

日本では、親指を印章（はんこ）のように使う「拇印」という習慣が古くから行われてきました。また、他の指をにぎった状態で親指だけを上げるジェスチャーは、日本やアメリカでは「良い」を意味し、日常的によく使われます。しかし、南アメリカや西アフリカなどの地域では、このジェスチャーは良くない意味としてとらえられています。これからますます（ A ）が進んでいくため、さまざまな点において「日本では大丈夫だが、他の国や地域ではどうだろうか」という視点を持つことが大切です。

(2) は人差し指です。その名の通り人や物を差し示したり、b) 相手に方向を示したりするときに使われます。また、スポーツの大会などで優勝した選手がよく人差し指を立てて「1位」「ナンバーワン」を表現することも多いです。

(3) は中指です。手話では、中指は「兄弟」を意味します。また「c) 弁慶の泣き所」<sup>べんけい</sup>という、すねの前面を指すことが多いですが、中指のことを「弁慶の泣き所」とよぶ場合もあります。

人差し指と中指は「ピースサイン」のように、一緒に使われることが多いです。アメリカやイギリスでは、ピースサインを自分の両目に当てた後、その手を相手に向けることで、d) 「ちゃんと見張っている」「見守っている」<sup>いっしょ</sup>というメッセージになります。

また、人差し指と中指をクロスさせることで十字架に見立てて、「幸運を祈る」という意味を表すこともあります。

(4)は薬指です。昔、薬をまぜ合わせたりぬったりするときに使った指だから、この名前がついたといわれています。一方で、人々の病気をなおしてくれると考えられたe)薬師如来の仏像がこの指を曲げているため、薬指という名前になったという説もあります。いずれにせよ、(4)は日本では古くから薬と関わりが深い指であると考えられてきました。

(5)は小指です。人とf)約束をするときに、おたがいの小指をひっかけあい、「指切りげんまん、うそついたら針千本飲ます」ととなえる風習は、g)江戸時代から始まったと考えられています。一方で、室町幕府が定めた撰銭令の中で、この法令に違反した者について「男は首を切り、女は指を切る」と定められていたことから、「約束や決まりをやぶったら指を切る」という行為自体は、( B )、武士の社会で行われていたといえます。

このように指にはさまざまな使い方や意味があることから、「手」というものがいかに人間の生活や文化に欠かせないものであるかがわかるでしょう。他者と握手をすれば、相手に友好を示すことになります。また、相手に何かを説明するとき、h)言葉だけでなく手を使うことで、わかりやすく伝えることもできます。このように、手は便利なコミュニケーションの手段でもあるのです。

問1 文中の下線部a)に関連して、次の文章はある人物について説明したのですが、その人物は誰ですか。次より選び、番号で答えなさい。

「日本資本主義の父」とよばれる。明治時代に、日本最初の銀行である第一国立銀行や、王子製紙・大阪紡績会社を設立するなど、日本の経済発展に大きく貢献した。

- ① 北里柴三郎      ② 福沢諭吉      ③ 渋沢栄一      ④ 野口英世

問2 文中の空欄( A )にあてはまる語句を次より選び、番号で答えなさい。

- ① 少子高齢化                      ② グローバル化  
③ モータリゼーション              ④ バリアフリー化

問3 文中の下線部 b) について、日本では視力検査の際に、右図のような「ランドルト環」とよばれるマークの切れ目がどこにあるかを、指で示します。



ある製薬会社がおこなったアンケートの結果を見ると、多くの親が「新型コロナウイルスの流行により子どもの視力が低下した」と回答しました。このような変化が起きた理由として、どのようなことが考えられますか。次の【資料1】・【資料2】を参考にして、説明しなさい。

**【資料1】**

目から 30 cm以内のものを見る時間が長くなることで、視力は低下すると考えられている。

**【資料2】**

「新型コロナウイルスが流行する以前と比べて、子どもの1日あたりのデジタル機器の使用時間は増えましたか？」アンケート結果 (2020年10月)

変化なし	36.6%
1時間以上長くなった	33.5%
3時間以上長くなった	18.5%
5時間以上長くなった	8.8%
短くなった	2.6%

(ロート製薬公式HPをもとに作成)

- 問4 文中の下線部 c) について、「弁慶の泣き所」とは「弁慶ほどの強くて勇ましい人物でも、ここを打たれたら痛くて涙なみだが出てしまう体の部分」の事です。次の【資料3】から読みとれることについて説明した文章Ⅰ・Ⅱの正誤の組み合わせとして正しいものを次より選び、番号で答えなさい。

## 【資料3】

観光スポット「弁慶べんけい岬みさき」

弁慶は、源義経につかえた人物である。かつて、源義経が再び兵をあげることを願った弁慶が、毎日立ちつくしたという伝説から、いつしか弁慶岬とよばれるようになりました。岬には、立ちつくす弁慶の石像や、力じまんの弁慶が現地のアイヌと相撲すもうをとったと言われる弁慶の土俵どひょうの跡など、数多くのスポットが残っています。

- Ⅰ 資料3によると、弁慶岬は現在の秋田県にあると考えられる。  
Ⅱ 弁慶は源義経とともに、承久の乱で後鳥羽上皇が率いる朝廷軍と戦った。

- ① Ⅰ－正 Ⅱ－正      ② Ⅰ－正 Ⅱ－誤  
③ Ⅰ－誤 Ⅱ－正      ④ Ⅰ－誤 Ⅱ－誤

- 問5 文中の下線部 d) に関連して説明した文章Ⅰ～Ⅲの正誤の組み合わせとして正しいものを次より選び、番号で答えなさい。

- Ⅰ 地方議会は、不信任決議によって首長に失職を要求することができる。  
Ⅱ 最高裁判所は、違憲立法審査権の最終的な決定権を持つため、「憲法の番人」とよばれる。  
Ⅲ 公正取引委員会は、消費者による不当な購入を取りしめることで、生産者の利益をはかることを目的としている。

- ① Ⅰ－正 Ⅱ－正 Ⅲ－正      ② Ⅰ－正 Ⅱ－正 Ⅲ－誤  
③ Ⅰ－正 Ⅱ－誤 Ⅲ－正      ④ Ⅰ－正 Ⅱ－誤 Ⅲ－誤  
⑤ Ⅰ－誤 Ⅱ－誤 Ⅲ－正      ⑥ Ⅰ－誤 Ⅱ－誤 Ⅲ－誤

問6 文中の下線部 e) に関連して、仏像にはさまざまな種類があり、それぞれが持つ力やメッセージによって手の形が異なっています。次の写真は東大寺の大仏ですが、この手の形にはどのような意味やメッセージがこめられていると考えられますか。大仏がつくられた時代の状況<sup>じょうきょう</sup>をふまえながら、もっともふさわしいものを次より選び、番号で答えなさい。



- ① 平城京で病気が流行していたため、人々のおそれをとりのぞこうとしている。
- ② 関東で平将門が反乱を起こしたため、反乱をはずめようとしている。
- ③ モンゴル軍が博多を攻撃<sup>こうげき</sup>してきたため、日本から追い出そうとしている。
- ④ 欧米諸国の船が浦賀に来航したため、これをむかえ入れようとしている。

問7 文中の下線部 f) に関連して、選挙の際に政党や候補者などが、実施<sup>じっし</sup>すると有権者に表明した文書を何と言いますか。カタカナで答えなさい。

問8 文中の下線部 g) に関連して、次のⅠ～Ⅲのできごとを順番に並びかえた場合に正しいものを次より選び、番号で答えなさい。

- Ⅰ 徳川吉宗が享保の改革を行い、財政を立て直そうとした。
- Ⅱ 徳川家光によって、参勤交代の制度が整備された。
- Ⅲ 大坂で大塩平八郎の乱が起こり、幕府に大きな衝撃<sup>しょうげき</sup>を与えた。

- ① Ⅰ→Ⅱ→Ⅲ      ② Ⅰ→Ⅲ→Ⅱ      ③ Ⅱ→Ⅰ→Ⅲ
- ④ Ⅱ→Ⅲ→Ⅰ      ⑤ Ⅲ→Ⅰ→Ⅱ      ⑥ Ⅲ→Ⅱ→Ⅰ



問9 文中の空欄（ B ）にあてはまる語句を次より選び、番号で答えなさい。


- ① 奈良時代から
- ② 平安時代よりも前から
- ③ 江戸時代よりも前から
- ④ 江戸時代よりも後に

問10 文中の下線部h) について、右図は「エコマーク」とよばれるものです。エコマークは「私たちの手で地球を、環境を守ろう」という願いをこめて、「環境 (Environment)」および「地球」(Earth) の頭文字「e」を表した人間の手が、地球をやさしくつつみこんでいるすがたをデザインしたものです。



【資料4】はエコマークがつけられている製品を並べたものですが、これらにエコマークがつけられている理由を説明しなさい。

【資料4】



トイレトペーパー



ビン



ノート

2 次の文章を読んで、あとの問いに答えなさい。

私たちの安心で安全なくらしは、警察が支えているとってよいでしょう。わが国における刑法犯罪の件数は、【表 1】のように減少傾向にあります。

【表 1】(単位：件)

	平成 29 年	平成 30 年	令和元年	令和 2 年	令和 3 年
刑法犯総数	915, 042	817, 338	748, 559	614, 231	568, 104

(令和 4 年「警察白書」をもとに作成)

a) 凶悪犯罪を取りしめる代表的な部署は、各都道府県警の刑事部捜査第一課です。なかでも、「警視庁捜査一課」といえば、アニメやドラマで聞いたことがある人も多いと思います。警視庁は、東京都の治安を守るために置かれている警察組織ですが、なぜ「警視庁」と呼ぶのでしょうか。例えば、b) 奈良県の警察組織は奈良県警察や奈良県警、大阪府ならば大阪府警察や大阪府警と呼ぶのに対して、東京都だけは東京都警察ではなく「警視庁」という名称になっています。

このなぞを解くカギは、今から 150 年ほど前にあります。次に示す資料は、警視庁創立 150 年記念サイトに書かれている文章です。

慶応 3 年 10 月 14 日 c) 徳川幕府が崩壊し、天皇親政\*の明治の世となつてから、  
 d) わが国は政治、経済、文化等あらゆる制度文物を諸外国から吸収し、めざましい発展を遂げ、近代国家建設へと力強い歩みを続けました。

しかし、時代の流れと社会の進展にともない、治安関係も次第に複雑化し、これに対応する警察制度を確立する必要に迫られました。(中略)

特に首府であり、政治、経済、文化の中心地である東京に、独立した首府警察の実現を図るべきであると政府に建議\*しました。この建議こそが、東京警視庁の設置を促す動機となり、明治七年一月十五日太政官達\*第六号をもって、東京府下の警察事務一切を管理する、東京警視庁の創置となりました。

(出典：「警視庁創立 150 年記念サイト」)

\*親政……君主自身が政治を行うこと。

\*建議……要望を出すこと。

\*太政官達……行政機関である太政官によって公布された法令のこと。

つまり「警視庁」とは、首都を守るための警察組織として明治政府が命名したもので、その名称が現在そのまま使われているということなのです。ちなみに、警視庁と名前が似ている「警察庁」という組織も存在しますが、こちらは東京都だけではなく、国家公安委員会のもとで日本全体の警察活動を管理・監督する e) 行政機関です。

ところで、私たちが普段生活をしている中でより身近に関わりを持つ警察は、警察署や交番だと思います。交通事故にあったり、事件を目撃したりしたときに f) 通報をすると、最寄りの警察署や交番から警察官がかけつけてくれます。オーストラリアのシドニーに g) 本部を置く経済平和研究所が2024年6月に発表した「世界平和度指数」に基づく世界の治安ランキングによると、日本は世界で7番目に治安のよい国とされています。

警察の活躍はテレビのニュースなどで目にすることができますが、近年はアニメやドラマでも、警察組織の細かいところまで正確に再現したものが多く見られます。それらを見ながら、色々なところに興味や疑問を持ってみましょう。例えば、警察と検察の違いは何か、「捜査第一課」に対して「第二課」や「第三課」はどんな事件を担当するのか、公安警察と公安調査庁の違いは何か、立てこもり事件のニュースで映った警察官の帽子ぼうしに書いてある「S I T」とはどんな意味なのか……。そういうものを調べて知識を増やすことも、りっぱな勉強です。さまざまなものに興味を持ち、知識と知識を結びつけながら、自分の世界を広げていきましょう。

問1 文中の下線部 a) に関連した文章として正しいものを次より選び、番号で答えなさい。

- ① 「犯罪」とは民事事件のことで、裁判所で有罪または無罪が決められる。
- ② 「犯罪」とは民事事件のことで、警察署で有罪または無罪が決められる。
- ③ 「犯罪」とは刑事事件のことで、裁判所で有罪または無罪が決められる。
- ④ 「犯罪」とは刑事事件のことで、警察署で有罪または無罪が決められる。

問2 文中の下線部 b) について、これらの府県が共通して属する地方の名称を答えなさい。ただし、八地方区分で答えること。

問3 文中の下線部 c) について、大政奉還の上表をおこなった将軍の名前を答えなさい。

問4 文中の下線部 d) について、この内容にあてはまらないものを次より選び、番号で答えなさい。

- ① 中央集権体制を強化する目的で、藩を廃止して知藩事に代わって府知事・県令（のちの県知事）が中央から派遣された。
- ② フランスの制度にならい、6歳以上の男女に教育を受けさせる制度が整えられた。
- ③ 新橋・横浜間で蒸気機関を利用した日本初の鉄道が開通した。
- ④ ききんに備えるために食料の生産量を上げる目的で、千葉県いんぼぬまの印旛沼などを中心に新田開発がさかんにおこなわれた。

問5 文中の下線部 e) に関連して、フランスの思想家モンテスキューは、権力が一か所に集中しすぎることを防ぐために、権力を分散させるべきであるという考えをとなえました。その考えを何といいますか、漢字4字で答えなさい。

問6 文中の下線部 f) について、次の各問いに答えなさい。

(1) 近年は通報件数が多すぎるのが社会問題の一つになっています。

そこで、緊急性が低いと思われる相談は「#9110」番に電話することが勧められるようになりました。なぜ、緊急性の高いものと低いものを分ける必要があると考えられますか。説明しなさい。

(2) (1) のような問題点がより深刻となるのは、人口の過密地域です。次の都市のうち人口が多い上位2つを選び、それぞれ番号で答えなさい。

- ① 松山市
- ② 鳥取市
- ③ 広島市
- ④ 仙台市
- ⑤ 長野市

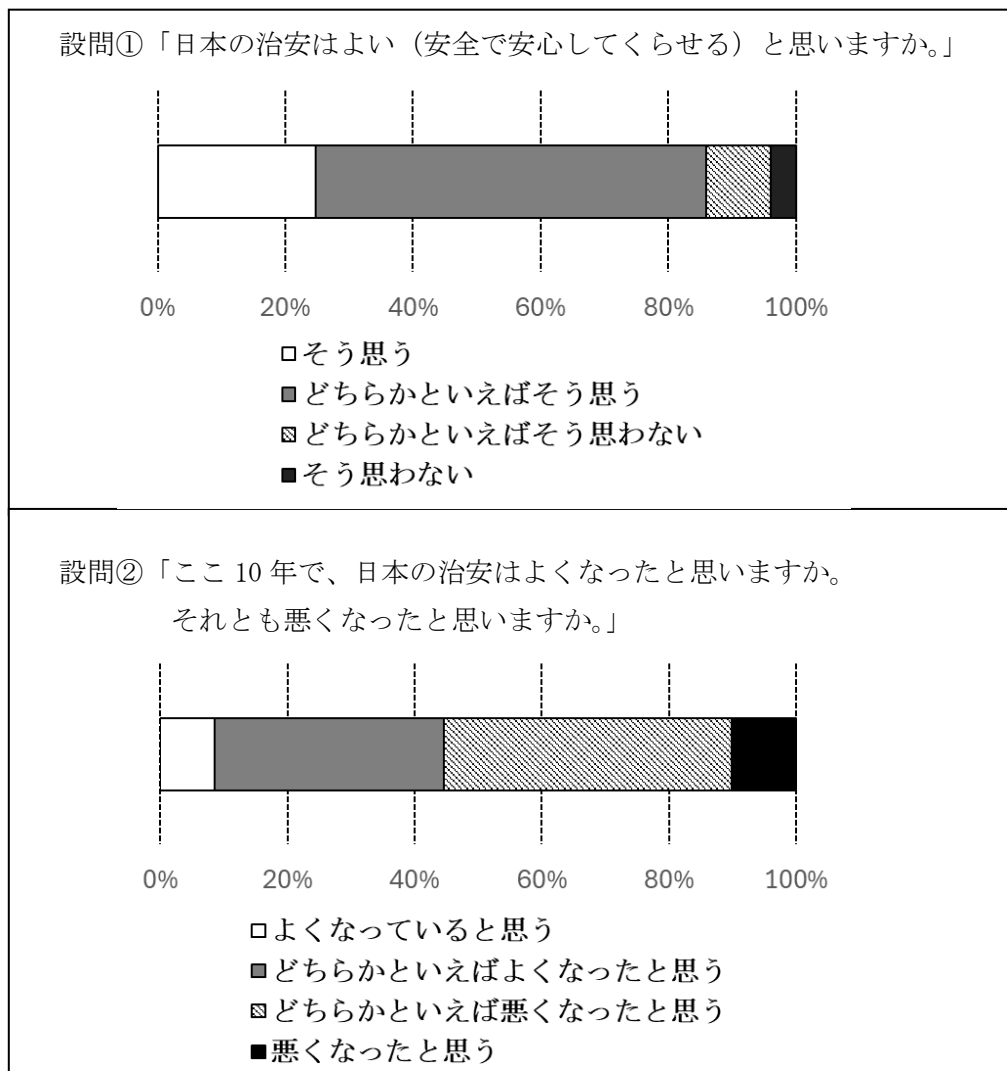
問7 文中の下線部g)について、アメリカ合衆国のニューヨークに本部が置かれている国際機関を次より選び、番号で答えなさい。

- ① 国際連盟    ② 国際連合    ③ EU    ④ ASEAN

問8 次の【表2】は、内閣府が実施した「治安に関する世論調査」の結果です。

【表2】の設問①と設問②の回答結果を比較して、読み取れることを説明しなさい。

【表2】



(内閣府世論調査 [令和3年12月調査] をもとに作成)